

Nom:

Prénom:

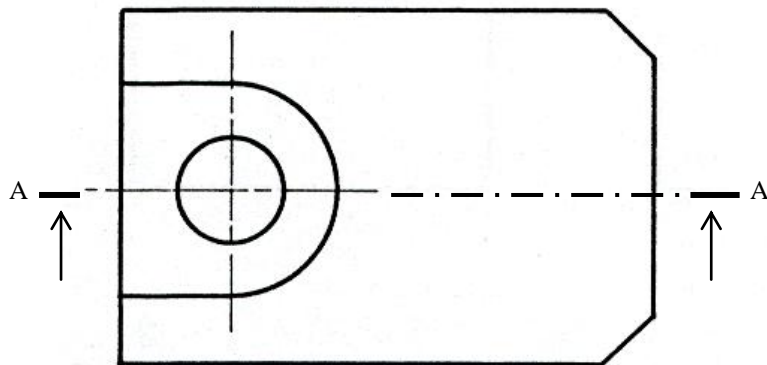
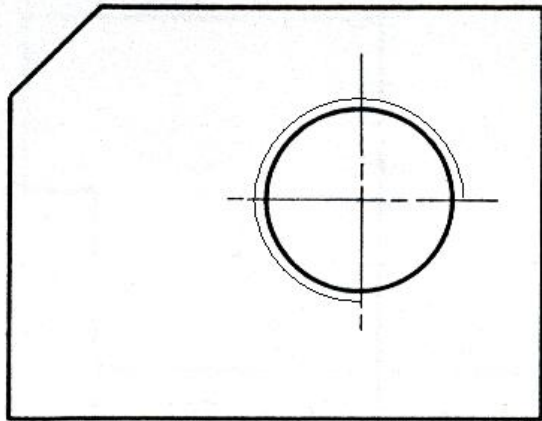
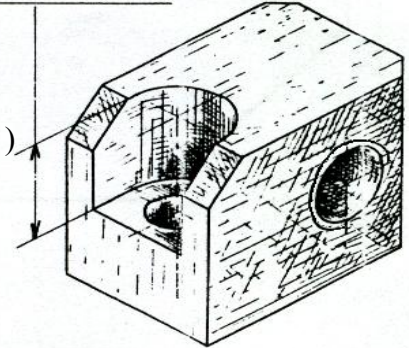
N°: ...

1S....

Travail demandé :

- compléter la vue de face en coupe A-A
- compléter la vue de gauche
- compléter la vue de dessus
- coter la forme de la pièce (les dimensions d'encombrement)
- coter la position du trou taraudé sur la vue de face

PROFONDEUR DU LAMAGE : 25



1	1	Coulisseau orientable	C35	acier
Rp	Nb	Désignation	Matière	Observation
Echelle 1 : 1		Coulisseau orientable	Dessine par :	
			Le :...../...../ 20..	03
Lycée				01
A4		Nom & Prénom :	Classe :	00